





Piste 1 – Présentation de la famille Niederman

I. Qui étaient les Niederman ?

1. Complétez le tableau à partir des informations contenues dans les documents 1 et 2 :

	 (dossier 1)	 (dossier 2)	 (dossier 3)	 (dossier 4)
Nom de naissance et prénom				
Date de naissance				
Âge en 1939				
Lieu de naissance				
Nationalité				
Profession				
Adresse du domicile jusqu'en 1941				
Date et lieu du décès				